

حدد الأصوات التي تمثلها الرسوم التوضيحية التالية

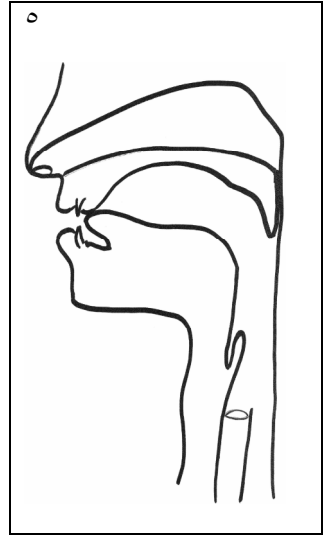
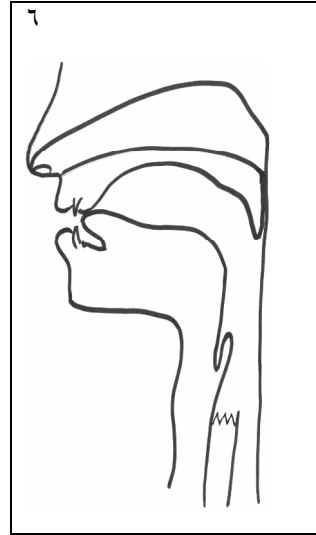
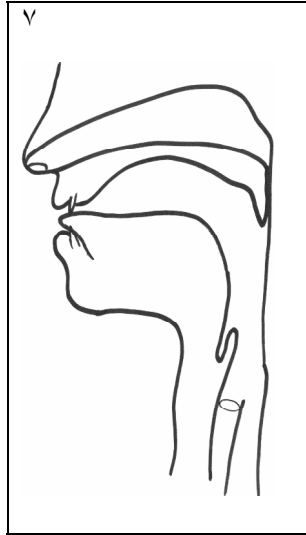
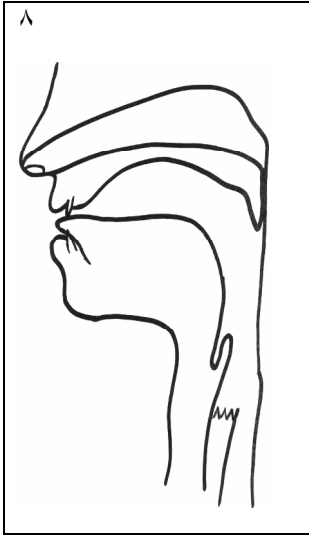
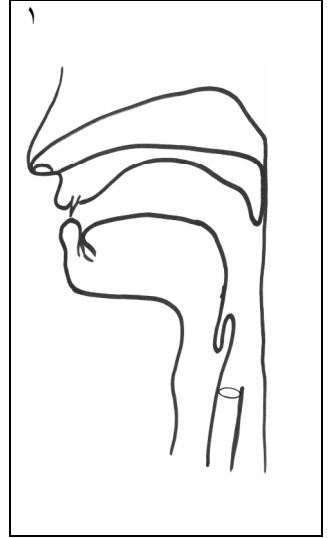
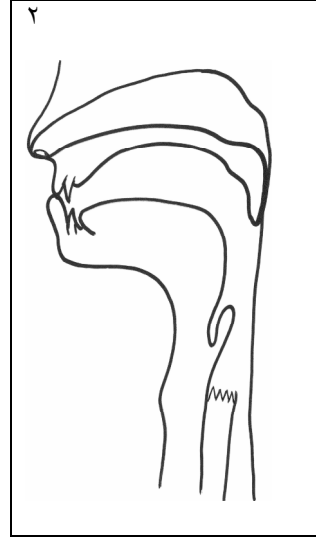
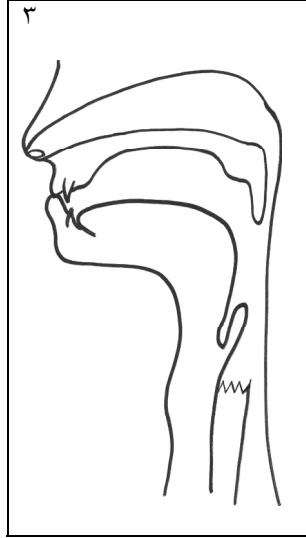
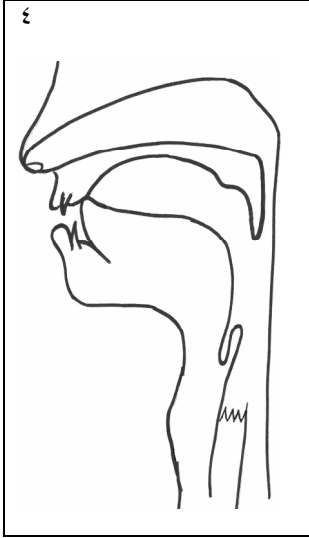
عند محاولة تحديد الصوت المنطوق ينبغي التركيز على :

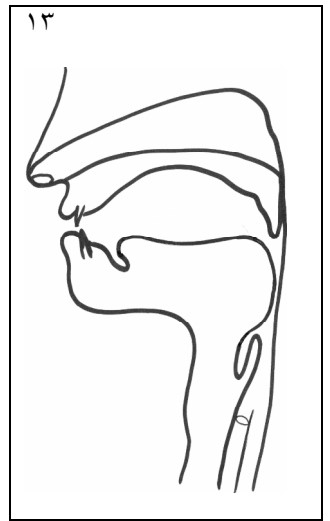
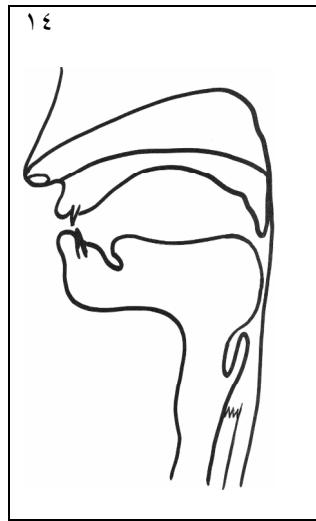
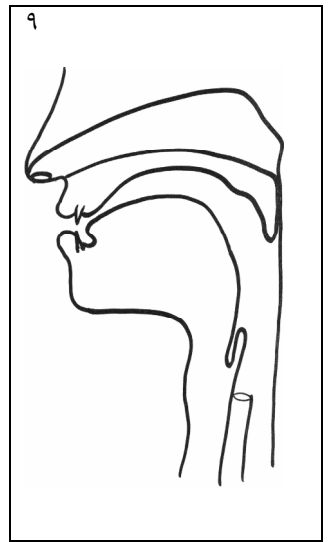
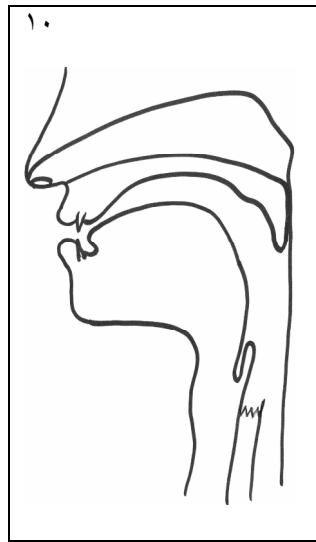
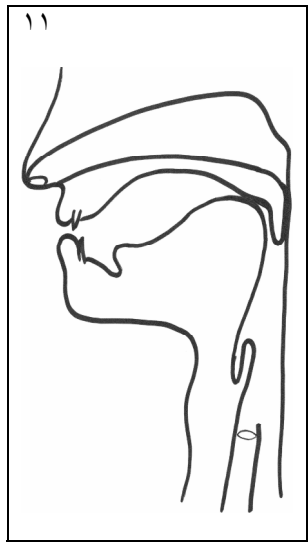
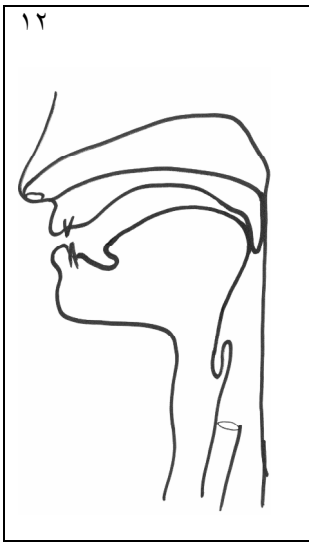
- ١- مخرج الصوت أو موضع إحدائه (مثلا: هل هو من الشفتين ، أم الشفة أو اللسان مع الثنايا ، أم اللسان مع الحنك ، أم الحلق؟)
- ٢- صفة النطق من ثلاث جهات:

أ. السماح للهواء أو منعه من الجريان خلال تجويف الأنف (هل هو صوت أنفي أم لا؟)

ب. طريقة اعتراض الهواء في تجويف الفم (هل هو حبس تام ينتج صوتا شديدا أم اعتراض جزئي ينتج صوتا رخوا؟)

ج. وضع الوترين الصوتيين (الهمس والجره) [vvv = الوتران يهتزتان ، ○ = الوتران لا يهتزتان]





۱(ف) - ۲(ا) - ۳(ب) - ۴(پ) - ۵(ت) - ۶(ث) - ۷(ج) - ۸(چ) - ۹(ح) - ۱۰(خ) - ۱۱(د) - ۱۲(ذ) - ۱۳(ر) - ۱۴(ز)